

UNIVERSIDADES PÚBLICAS DE LA COMUNIDAD DE MADRID
EVALUACIÓN PARA EL ACCESO A LAS ENSEÑANZAS
UNIVERSITARIAS OFICIALES DE GRADO

Curso **2016-2017**

MATERIA: GEOGRAFÍA

INSTRUCCIONES GENERALES Y CALIFICACIÓN

Después de leer atentamente todas las preguntas, el alumno deberá escoger **una** de las dos opciones propuestas y responder a las cuestiones de la opción elegida.

CALIFICACIÓN: El valor de las preguntas se asigna al final de su enunciado.

TIEMPO: 90 minutos.

OPCIÓN A

1ª Parte

Defina, en el cuadernillo adjunto, **seis** de los siguientes términos o conceptos geográficos, utilizando como máximo una cara del cuadernillo:

Páramo, Sotobosque, Duna, Ciudad jardín, Golfo, Tasa Bruta de Mortalidad, Terciarización, Cultivo bajo plástico.

Puntuación máxima: 1,5 Puntos.

2ª Parte

Tema "**Los espacios pesqueros**".

Desarrolle, de manera sintética, el tema propuesto (utilice, como máximo, ambas caras de un folio). Como indicativos se señalan los siguientes epígrafes:

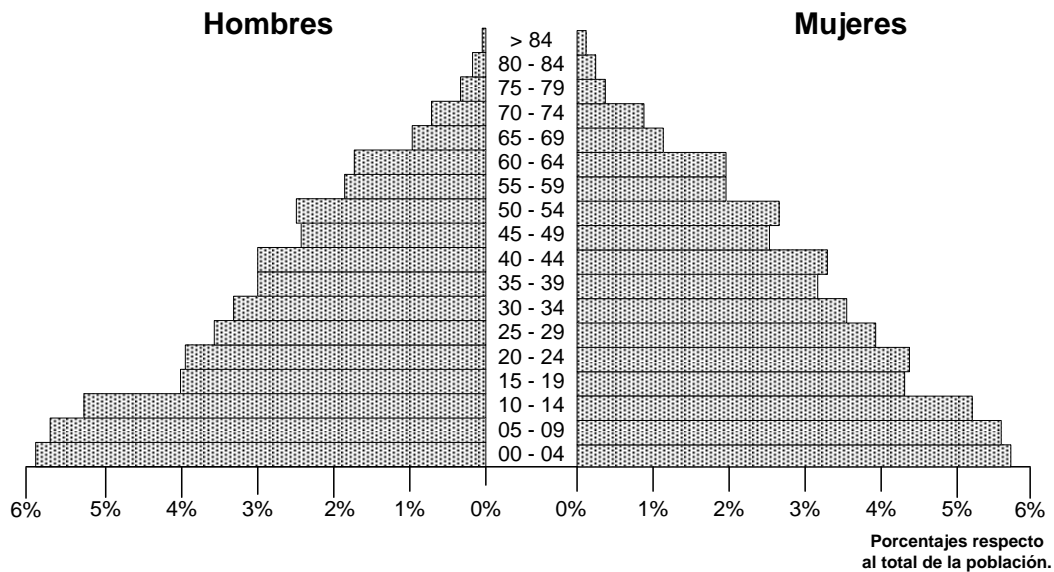
- Características de la pesca en España.
- La reconversión de la actividad pesquera y futuro de la pesca.
- Tipos de pesca.
- La acuicultura.

Puntuación máxima: 4 Puntos.

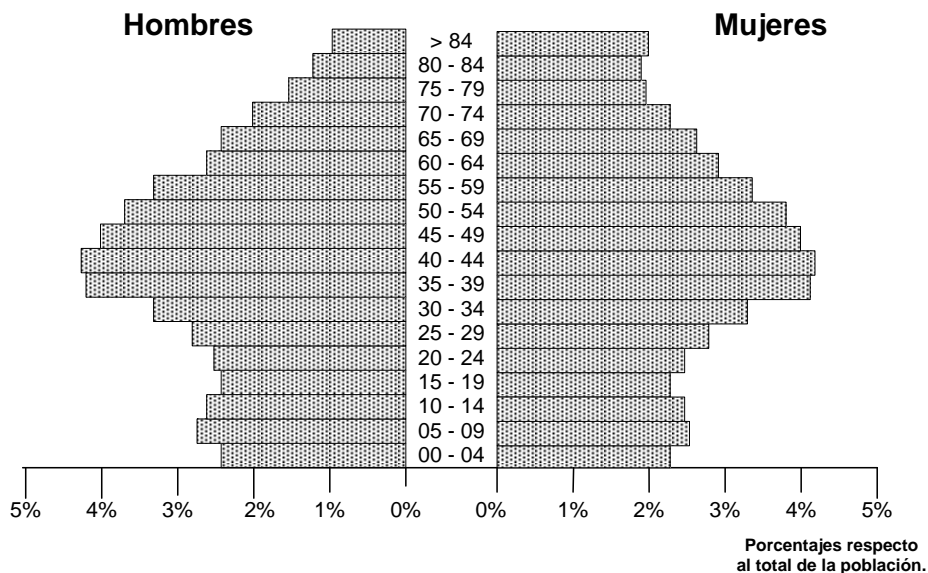
3ª Parte

Comentario del gráfico: Realice un comentario del presente gráfico “**Pirámides de Población de España en 1900 y 2016**”. Analice las principales diferencias de estructura de la población por edad y sexo, entre cada una de estas fechas, y explique sus posibles causas.

**Población en España por edades y sexos.
1 enero 1900**



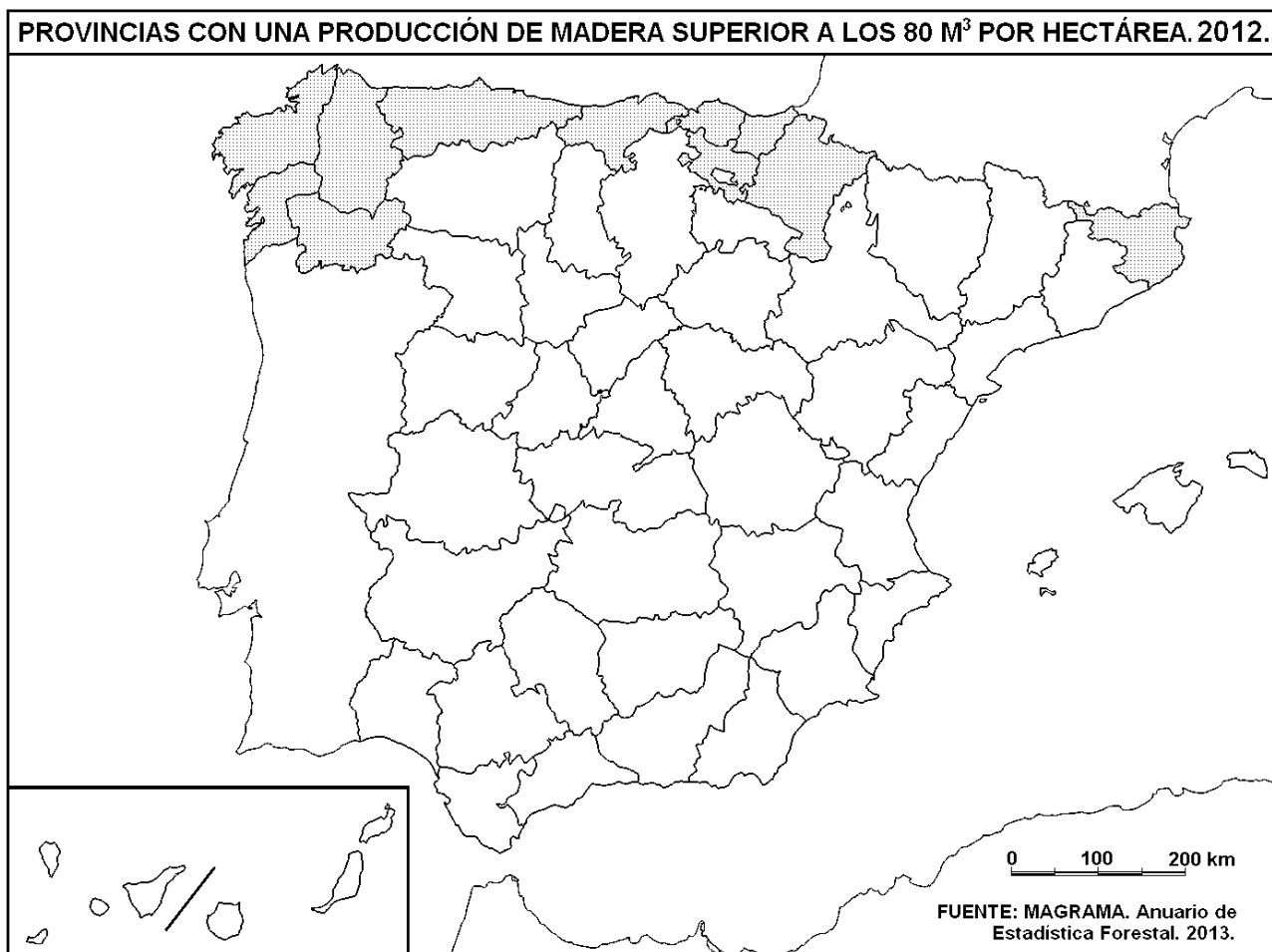
**Población en España por edades y sexos.
1 enero 2016**



Puntuación máxima: 2,5 puntos.

4ª Parte

A la vista del mapa adjunto, "**provincias con una producción de madera superior a los 80 m³ por hectárea**", indique, además de Gerona (Girona), el nombre de las provincias tramadas pertenecientes a dicha categoría y señale las razones que explican esta distribución.



Puntuación máxima 2 puntos

OPCIÓN B

1ª Parte

Defina, en el cuadernillo adjunto, **seis** de los siguientes términos o conceptos geográficos, utilizando como máximo una cara del cuadernillo:

Cordillera, I+D+I, Badlands, Fosa tectónica, Barbecho, Emplazamiento urbano, Orogenia alpina, Meridiano.

Puntuación máxima: 1,5 puntos

2ª Parte

Tema: **“La España atlántica del Norte y Noroeste”**.

Desarrolle, de manera sintética, el tema propuesto (utilice, como máximo, ambas caras de un folio). Como indicativos se señalan los siguientes aspectos:

- Localización.
- Características geomorfológicas.
- Características climáticas, hidrográficas y vegetales.
- Principales riesgos ambientales.

Puntuación máxima: 4 puntos

3ª Parte

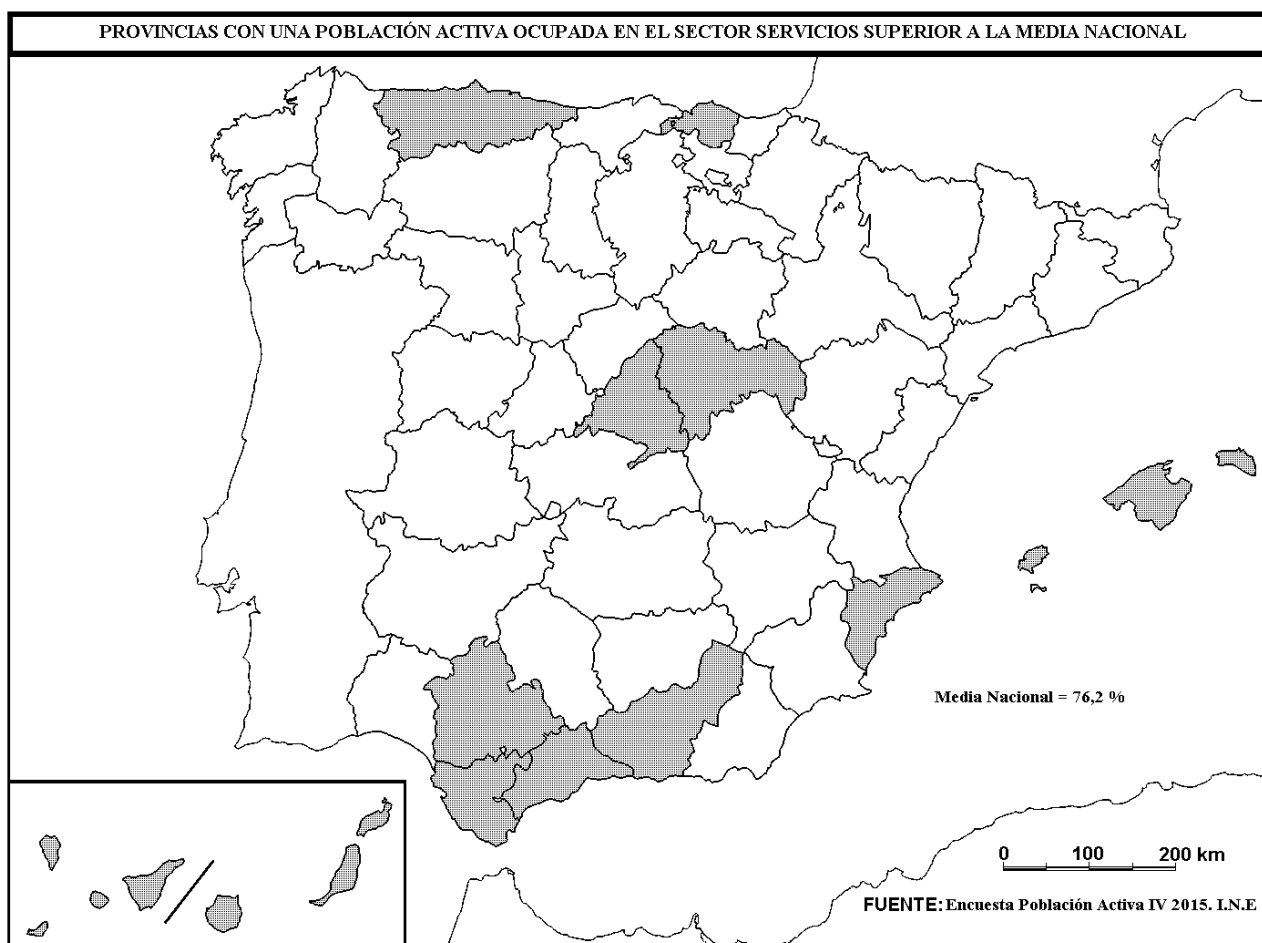
Comentario de la fotografía adjunta: Comente el paisaje de la lámina adjunta, atendiendo, al menos, a:

- Las unidades del paisaje.
- Los usos del suelo.
- Las manifestaciones espaciales de las actividades económicas y del poblamiento.

Puntuación máxima: 2,5 puntos

4ª Parte

A la vista del mapa adjunto, **“provincias con un porcentaje de población activa ocupada en el sector servicios superior a la media nacional”** (76,2 %), además de Madrid y Guadalajara indique el nombre de las provincias tramadas pertenecientes a dicha categoría y señale las razones que explican esta distribución.



Puntuación máxima: 2 puntos.

